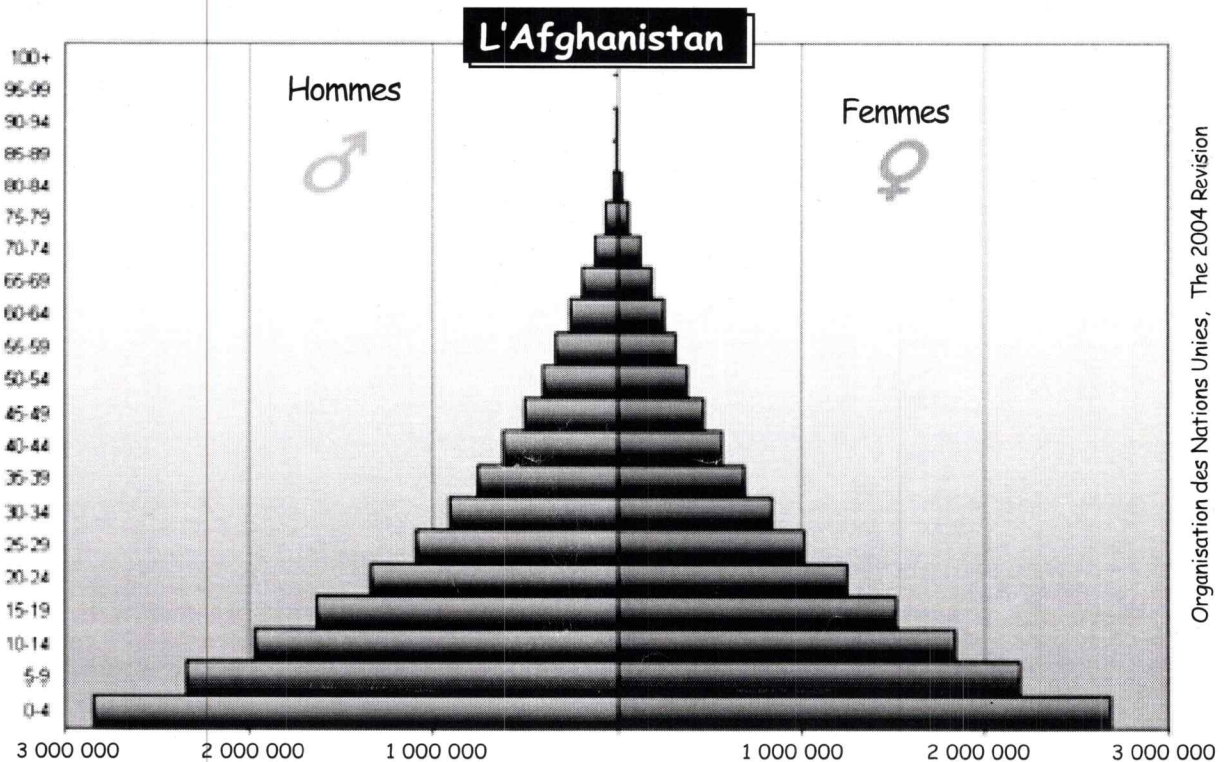
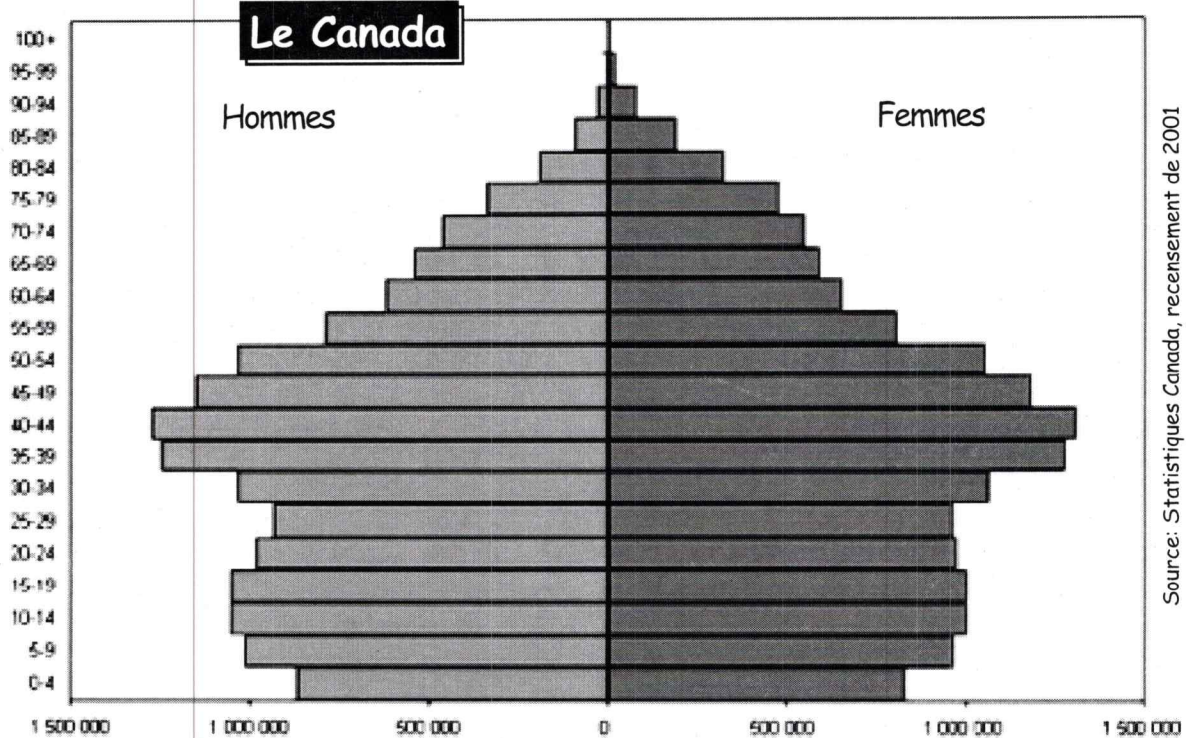


## Qualité de la vie à l'échelle mondiale

Mon nom: \_\_\_\_\_

### La pyramide des âges

La pyramide des âges est la répartition de la population selon le groupe d'âge et le sexe pour un pays donné dans une année. Ces deux pyramides sont bien différentes de par leur forme. Une pyramide représente la population d'un pays développé (le Canada) et l'autre représente la population d'un pays en voie de développement (l'Afghanistan).



Utilise les deux pyramides des âges de la page 25 pour compléter cet organisateur graphique.

# Différences

[illegible]

# Similarités


[illegible]

Fait une recherche sur l'Afghanistan et donne 3 faits qui nous aident à comprendre les

problème  
de  
de naissance  
et  
mortalité

encke

mes  
aux  
ssance  
de  
ités

[illegible]

## Qualité de la vie à l'échelle mondiale

**Mon nom:**





# TRAVAIL SUR LA CARTE LE MAGHREB

Complète ce travail de cartographie pour mieux comprendre le reportage « *Des catastrophes frappent deux pays africains* ».

## INSTRUCTIONS

1. Procure-toi toutes les ressources nécessaires et lis bien les instructions avant de commencer.
2. Ne colorie ta carte qu'après y avoir inscrit toute l'information demandée.
3. Écris d'abord au crayon, puis repasse par-dessus les lettres au stylo noir.
4. Applique-toi afin que ton travail soit bien propre.

**Ressources nécessaires** : crayon, stylo noir, crayons de couleur, règle, gomme à effacer et atlas.

**Partie A** Trouve et indique, en lettres MAJUSCULES, les pays suivants et colorie-les de la couleur indiquée :

Portugal (rose)	Espagne (brun)	Italie (rouge)
Grèce (jaune)	Égypte (brun)	Libye (vert)
Tunisie (orange)	Algérie (violet)	Maroc (orange)

**Partie B** Trouve et indique la capitale de chacun de ces pays et soulignes-en le nom.

**Partie C** Trouve et indique, en lettres MAJUSCULES, les pays d'Afrique du Nord suivants et colorie-les de la couleur indiquée :

Soudan (jaune)	Tchad (rose)	Niger (rouge)
Mali (brun)	Mauritanie (jaune)	

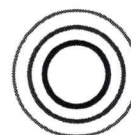
**Partie D** Trouve et indique les villes suivantes en Libye et au Maroc :

Benghazi	Misurata	Al Bayda
Derna	Casablanca	Marrakech

**Partie E** Trouve et indique, en lettres MAJUSCULES, les pays européens suivants et colorie-les de la couleur indiquée :

France (vert)	Slovénie (jaune)	Croatie (rose)
Roumanie (violet)	Bulgarie (vert)	Bosnie-Herzégovine (orange)
Albanie (violet)	Türkiye [Turquie] (orange)	Malte (jaune)

**Partie F** Utilise un motif circulaire pour indiquer l'emplacement du tremblement de terre au Maroc. P. ex. :




**Partie G** Trouve et indique les étendues d'eau salée suivantes et colorie-les en bleu foncé :

Détroit de Gibraltar	Mer Méditerranée
Mer Tyrrhénienne	Mer Ionienne
Mer Égée	Mer Noire


**Partie H** Colorie les territoires restants en gris.

**Partie I** Complète ta carte en y ajoutant un cadre, un titre et une rose des vents. ★



Maroc

Le Maghreb est la partie occidentale du monde arabe. Cette région comprend l'Afrique du Nord occidentale et centrale, ce qui inclut l'Algérie, la Libye, la Mauritanie, le Maroc et la Tunisie. Les états membres couvrent une superficie totale de 6,3 millions de km<sup>2</sup> et comptent environ 107 millions d'habitants.



Libye

Nomi:

10

30

