

Nom _____

Dessine-moi une étoile !

4

Selon l'astrologie, le Soleil et les planètes influencent les activités terrestres. Jadis, on croyait que le Soleil tournait autour de la Terre, jusqu'à ce que Copernic démontre... l'inverse.


D'irréductibles astrologues ont pourtant poursuivi leur recherche des étoiles. À partir des astres, ils se sont affairés à prédire des catastrophes naturelles et humaines. Et voilà qu'au IV^e siècle avant J.-C., en Grèce, une nouvelle vague d'astrologues crée tout un raz-de-marée : ils prédisent l'avenir des gens ! Avec, en prime, l'attribution d'un des douze signes du zodiaque !

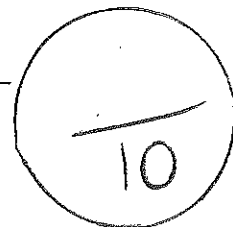

Depuis, les astrologues dressent des horoscopes personnels à partir d'une carte du ciel. Sur une carte du ciel, la Terre est au centre. Le Soleil décrit une trajectoire extrême autour de la Terre. Sur cette même trajectoire se trouvent les douze signes du zodiaque. La Terre met un an pour accomplir une révolution autour du Soleil. Aussi chacun des signes reçoit-il la visite du Soleil une fois par année durant environ trente jours. Si, le jour de ta naissance, le Soleil

L'astrologie

se trouvait dans le signe du Taureau par exemple, tu es donc un Taureau.

Mais tout ne s'arrête pas qu'au signe du zodiaque. Il y a aussi les maisons, l'ascendant et les thèmes astraux. En bref, les maisons représentent les expériences personnelles, matérielles et intérieures par rapport à un besoin d'activité, de sécurité et d'apprentissage chez une personne. Ce n'est pas tout : les planètes qui gravitent autour de la Terre influencent aussi les signes astraux. Jadis associées aux dieux, elles possèdent toutes des traits de caractère divins... calqués sur l'humain !





- 1** Que s'est-il passé en Grèce au IV^e siècle avant J.-C. ? _____

- 2** Qu'est-ce qu'un astrologue ? _____

- 3** Comment les astrologues dressent-ils les horoscopes personnels ? _____

- 4** Combien de fois par année le Soleil visite-t-il chaque signe du zodiaque ? _____

- 5** Sur une carte du ciel, où se trouve la Terre ? _____

- 6** Avant de prédire l'avenir des gens, que prédisaient les anciens astrologues ? _____

- 7** Qu'a démontré Copernic ? _____

- 8** Crois-tu à l'astrologie ? Explique ta réponse. _____

- 9** Selon toi, est-il possible de prédire l'avenir ? Pourquoi ? _____

- 10** Que peux-tu apprendre en consultant tes « maisons » ? _____

