


## Qualité de la vie à l'échelle mondiale

Mon nom: \_\_\_\_\_



## Le P.I.B. et le P.N.B.

Le produit intérieur brut [PIB] est une évaluation monétaire de tous les biens et services (ressources) produits au cours d'une année par toutes les entreprises à l'intérieur d'un pays donné. Le PIB représente donc toutes les industries canadiennes à l'intérieur du pays.



Le produit national brut [PNB] est une évaluation monétaire de tous les biens et services (ressources) produits au cours d'une année par toutes les entreprises à l'intérieur d'un pays donné et à l'étranger. Le PNB représente donc toutes les industries canadiennes à l'intérieur du pays et à l'extérieur du pays.

Le P.I.B. et le P.N.B.

## Qualité de la vie à l'échelle mondiale

Mon nom: \_\_\_\_\_

Avec un(e) partenaire, nomme 5 industries canadiennes et donne des exemples pour chacune.

10



*L'industrie du transport*

Industries

\_\_\_\_\_

\_\_\_\_\_

\_\_\_\_\_

\_\_\_\_\_

\_\_\_\_\_

Exemples

\_\_\_\_\_  
\_\_\_\_\_  
\_\_\_\_\_

\_\_\_\_\_  
\_\_\_\_\_  
\_\_\_\_\_

\_\_\_\_\_  
\_\_\_\_\_  
\_\_\_\_\_

\_\_\_\_\_  
\_\_\_\_\_  
\_\_\_\_\_

\_\_\_\_\_  
\_\_\_\_\_  
\_\_\_\_\_

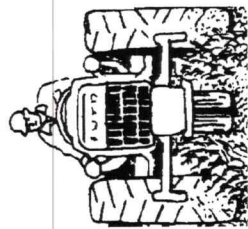
Produit intérieur brut en termes  
de dépenses, par province et  
territoire en millions de dollars  
aux prix du marché

Le P.I.B. au Canada


Qualité de la vie à  
l'échelle mondiale

Mon nom: \_\_\_\_\_

	2009	2010	2011	2012
Canada	1 567 007	1 662 757	1 760 011	1 819 967
Terre-Neuve-et-Labrador	24 972	29 063	33 501	33 817
Île-du-Prince-Édouard	4 947	5 202	5 384	5 547
Nouvelle-Écosse	35 254	37 073	38 147	38 397
Nouveau-Brunswick	28 825	30 082	31 291	31 543
Québec	315 531	329 670	345 287	357 859
Ontario	595 433	629 500	654 715	674 485
Manitoba	50 636	52 896	55 169	58 245
Saskatchewan	60 326	63 379	73 436	77 929
Alberta	246 717	270 100	298 049	311 898
Colombie-Britannique	195 966	205 996	215 148	219 994
Yukon	2 107	2 313	2 376	2 631
Territoires du Nord-Ouest	4 020	4 787	4 718	4 675
Nunavut	1 548	1 936	2 036	2 198



L'agriculture est  
une industrie  
importante au  
Canada.






**Qualité de la vie à  
l'échelle mondiale**

Mon nom: \_\_\_\_\_

**Le P.I.B. au Canada**

Observe bien le tableau  
sur le PIB des provinces  
et territoires du Canada à  
la page 11 et réponds aux  
questions suivantes.



*L'automobile est  
une industrie  
importante dans  
notre pays.*

1. Nomme une province ou un territoire qui avait  
un PIB élevé en 2012.

\_\_\_\_\_

2. Nomme une province ou un territoire qui avait un PIB faible  
(ou bas) en 2012.

\_\_\_\_\_

3. Compare ces 2 provinces ou territoires et essaie d'expliquer pourquoi il  
en est ainsi. (pense à la superficie, à la population, aux ressources  
disponibles, aux industries, aux biens et services, aux entreprises à  
l'intérieur du pays).

\_\_\_\_\_

\_\_\_\_\_

\_\_\_\_\_

\_\_\_\_\_

\_\_\_\_\_

\_\_\_\_\_

\_\_\_\_\_

\_\_\_\_\_

\_\_\_\_\_

\_\_\_\_\_

\_\_\_\_\_

\_\_\_\_\_



*Quand le PIB monte  
d'une année à l'autre, on  
interprète ceci comme un  
signe d'une économie  
qui va bien.*

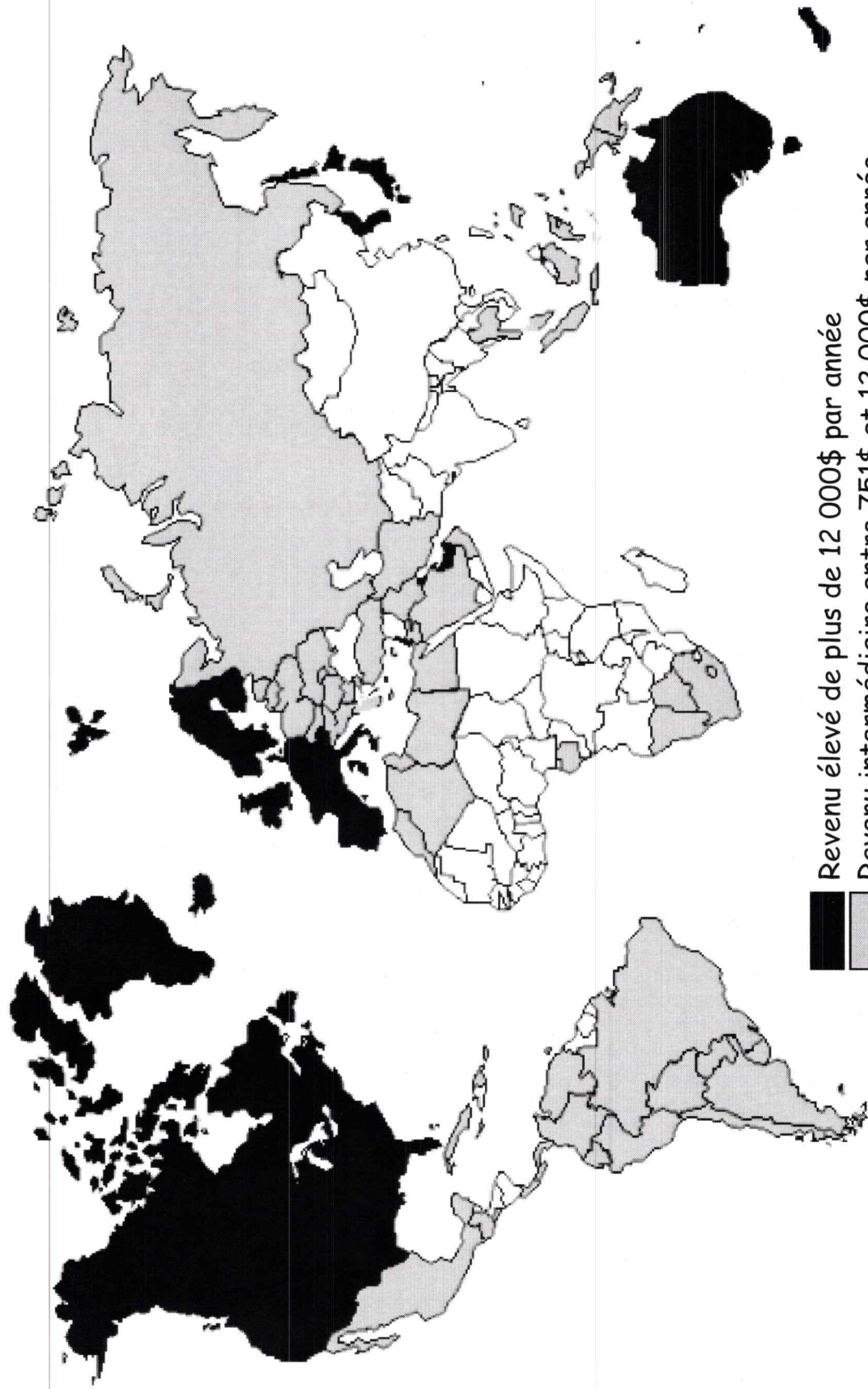
Le P.N.B. par habitant

Année 2000

Observe bien la carte mondiale sur le PNB par habitant et réponds aux questions de la page suivante.

## Qualité de la vie à l'échelle mondiale


Mon nom: \_\_\_\_\_



■ Revenu élevé de plus de 12 000\$ par année  
■ Revenu intermédiaire entre 751\$ et 12 000\$ par année  
□ Revenu faible de 765\$ ou moins par année

5

Observe bien la carte mondiale sur le PNB par habitant de la page 13 et réponds à ces questions.



*L'industrie de l'information*

Le P.N.B par habitant

**Qualité de la vie à l'échelle mondiale**


Mon nom: \_\_\_\_\_

4. Nomme un pays qui avait un PNB élevé en 2001.

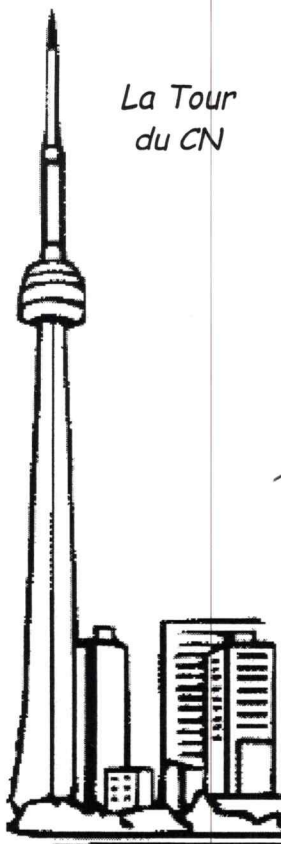
\_\_\_\_\_

5. Nomme un pays qui avait un PNB faible (ou bas) en 2001.

\_\_\_\_\_



*L'industrie laitière au Canada est un autre secteur important dans notre économie.*



*La Tour du CN*

*Le tourisme est une industrie florissante au Canada!*

6. Compare ces 2 pays et essaie d'expliquer pourquoi il en est ainsi. (pense à la superficie, à la population, aux ressources disponibles, aux industries, aux biens et services, aux entreprises canadiennes à l'étranger etc)

\_\_\_\_\_

\_\_\_\_\_

\_\_\_\_\_

\_\_\_\_\_

\_\_\_\_\_

\_\_\_\_\_

\_\_\_\_\_

\_\_\_\_\_

\_\_\_\_\_

\_\_\_\_\_

4

5

5