



TRAVAIL SUR LA CARTE

INSTRUCTIONS

1. Procure-toi toutes les ressources nécessaires et lis bien les instructions avant de commencer.
2. Ne colorie ta carte qu'après y avoir inscrit toute l'information demandée.
3. Écris d'abord au crayon, puis repasse par-dessus les lettres au stylo noir.
4. Applique-toi afin que ton travail soit bien propre.

Ressources nécessaires : crayon, stylo noir, crayons de couleur, règle, gomme à effacer et atlas.

Partie A Trouve et indique, EN LETTRES MAJUSCULES, les territoires suivants et colorie chacun de la couleur indiquée :

3 Territoire du Yukon (brun) Territoires du Nord-Ouest (rose) Nunavut (orange)

Partie B Trouve et indique la capitale de chacun de ces trois territoires et soulignes-en le nom.

Partie C Trouve et indique, EN LETTRES MAJUSCULES, les étendues terrestres suivantes et colorie chacune de la couleur indiquée :

8 Colombie-Britannique (violet) Alberta (jaune) Saskatchewan (vert)
Manitoba (brun) Ontario (gris) Québec (jaune)
Alaska (gris) Groenland (vert)

Partie D Trouve et indique les îles suivantes :

Île de Baffin 3 Île d'Ellesmere
Île Victoria

Partie E Trouve et indique les lacs suivants et colorie-les en bleu clair :

3 Grand lac des Esclaves Grand lac de l'Ours
Lac Athabasca

Partie F Trouve et indique les eaux océaniques suivantes et colorie-les en bleu foncé :

3 Océan Arctique
Baie d'Hudson
Baie de Baffin



Yukon



Territoires du Nord-Ouest

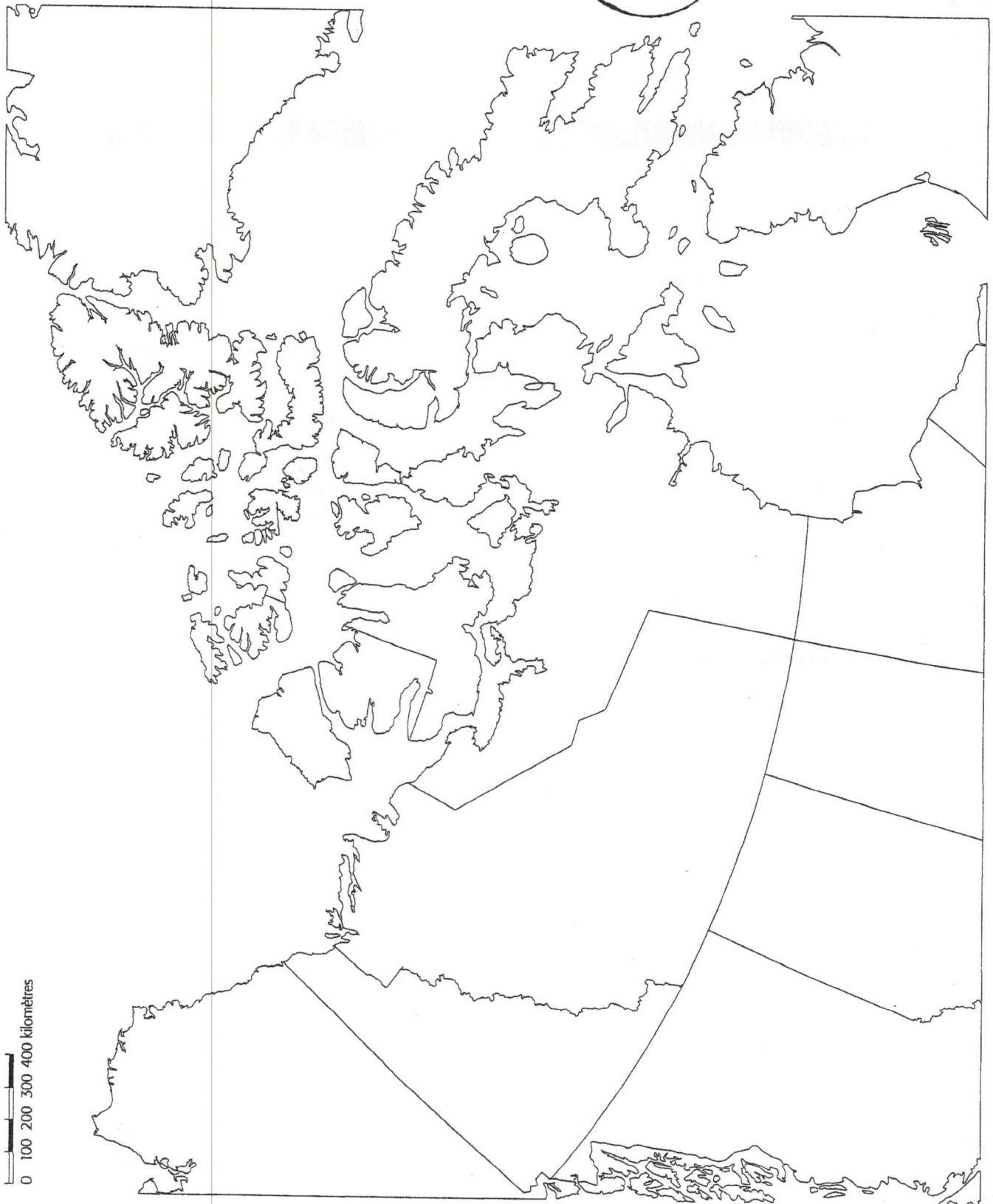


Nunavut

Le Canada

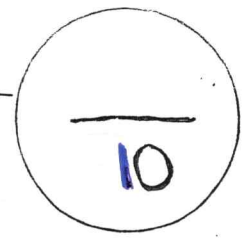
Nom: _____

20



0 100 200 300 400 kilomètres

Nom: _____



TRAVAIL SUR LA CARTE

INSTRUCTIONS

1. Procure-toi toutes les ressources nécessaires et lis bien les instructions avant de commencer.

Ressources nécessaires : crayon, stylo noir, crayons de couleur, règle, gomme à effacer et atlas.

Partie A Trouve et indique, EN LETTRES MAJUSCULES, les provinces suivantes

Saskatchewan

Manitoba

Partie B Trouve et indique la capitale de chacune des provinces ci-dessus et soulignes-en le nom.

Partie C Trouve et indique, EN LETTRES MAJUSCULES, la province et les territoires du Canada

Ontario

Territoires du Nord-Ouest

Nunavut

Partie E Trouve et indique les villes suivantes :

Brandon

Steinbach

Thompson

Portage la Prairie

Le Pas

Churchill

Partie F Trouve et indique les rivières et fleuves suivants

Fleuve Churchill

Fleuve Nelson

Rivière Saskatchewan

Rivière Assiniboine

Rivière Rouge


Partie G Trouve et indique les lacs suivants

Lac des Cèdres (Lac Cedar)

Lac Winnipegosis

Lac Manitoba

Lac Winnipeg



Manitoba

Le Manitoba

Nom: _____

