




La répartition de la population


On peut définir *peuplement* comme l'endroit où les gens vivent. La taille des peuplements varie énormément selon où on est géographiquement. Vous savez tous que Toronto est la ville la plus peuplée au Canada. Sa population est environ 2 600 000!

Dans une ville comme Toronto, les maisons et les entreprises sont rassemblées les unes avec les autres. Un grand centre de commerce ou de transport peut affecter la population. Toronto a des aéroports et elle est un vaste centre de commerce. Il y a plein d'autres facteurs qui affectent la population.

La ville de Toronto a un peuplement **regroupé**; les gens vivent très proches les uns aux autres dans la superficie.



une population regroupée



une population dispersée

Les communautés fermières sont plus petites que les grandes villes. C'est pour ça que le mode de peuplement est différent dans ces régions. Par exemple, à Oro, un village au centre-sud de l'Ontario, la population n'est pas aussi regroupée que celle de Toronto. On dit alors que la population est **dispersée**. Trouve 5 autres villages au Canada qui ont des populations **dispersées**.

Les villages
(population dispersée)

Province ou territoire



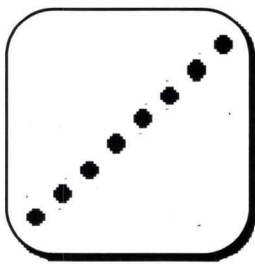
Dans quel type de peuplement est-ce que tu habites?



La répartition de la population

De la campagne à la ville:
les constantes en géographie

Mon nom: _____



une population
linéaire

Durant les 17^e et 18^e siècles, les immigrants de France se sont établis au bord du fleuve St-Laurent. Il était important que les gens aient accès au fleuve pour de nombreuses raisons. Ce mode de peuplement est appelé *linéaire* et se trouve même aujourd'hui comme à Champlain au Québec.

Ville de Champlain au Québec



La plupart des habitants de Champlain habitent le long de la route 138 au nord du fleuve Saint-Laurent. C'est un peuplement linéaire. Image gracieuseté de Google Maps.

Va en ligne pour
trouver un
exemple d'une
population
linéaire. Tu peux
utiliser Google
Maps ou un site du
même type.

--	--



De la campagne à la ville:
les constantes en géographie

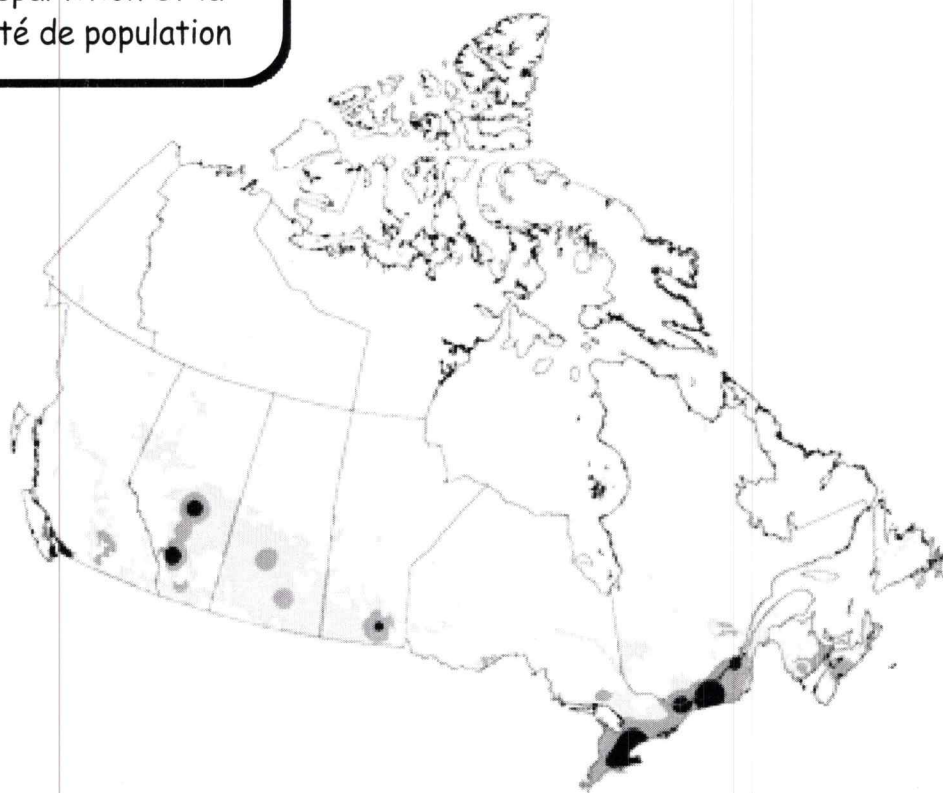
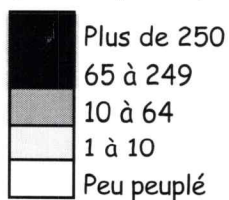
Mon nom: _____

La façon dont les habitants peuplent une région ou un pays s'appelle la **répartition de population**. Il existe plusieurs façons de peupler un pays. Les principaux types de répartition s'appellent linéaire, regroupé et dispersé. Parfois, la répartition est connue comme le *mode de peuplement*. Au Canada, la grande majorité de la population habite au sud, près de la frontière des États-Unis. Cette carte montre la répartition de population au Canada:



La répartition et la
densité de population

Densité de population
(personnes par km²)





La densité de
population

De la campagne à la ville:
les constantes en géographie

Mon nom: _____

En résumé, la **densité de population** se réfère au nombre d'habitants vivant dans une superficie donnée. D'habitude, la superficie est mesurée en km^2 . La densité de population peut varier énormément dans un même pays dépendamment où on vit. Pour déterminer la densité de population, il faut diviser la population par la superficie.

Population du pays
Superficie en km^2

la ville de
Toronto



Le Canada a une densité de population très faible comparée à la masse terrestre du pays. Aujourd'hui, la population du Canada est environ 35 millions. Il est un des plus grands pays du monde, ayant une superficie de $9,984,670 \text{ km}^2$! Pour calculer la densité de population du Canada:

35 000 000 d'habitants
9 984 670 km^2

_____ hab./ km^2
Densité de population du Canada




À ton avis, quel pays parmi ceux de la liste suivante a la plus forte densité de population? Fais tes prédictions. Ensuite, vérifie tes prédictions sur Internet.

1. Le Royaume-Uni: _____
2. L'Inde: _____
3. Le Rwanda: _____
4. La France: _____
5. Les États-Unis: _____
6. L'Afrique du Sud: _____
7. Le Japon: _____

Je pense que _____ a la plus forte densité de population.

Le pays avec la plus forte densité de population est _____, avec _____ habitants/ km^2 .



Regarde le tableau des populations des provinces et des territoires du Canada. Crée ta propre légende de couleurs ou de symboles pour représenter les populations et colorier la carte en conséquence. N'oublie pas d'ajouter un titre!



Province ou territoire Population en 2013

Les Territoires du Nord-Ouest	43 500 habitants
Le Yukon	36 700 habitants
Le Nunavut	35 600 habitants
La Colombie-Britannique	4 582 000 habitants
L'Alberta	4 025 100 habitants
La Saskatchewan	1 108 300 habitants
Le Manitoba	1 265 000 habitants
L'Ontario	13 538 000 habitants
Le Québec	8 155 300 habitants
Le Nouveau-Brunswick	756 100 habitants
La Nouvelle-Écosse	940 800 habitants
L'Île du Prince-Édouard	145 200 habitants
Terre-Neuve	526 700 habitants

De la campagne à la ville:
les constantes en géographie

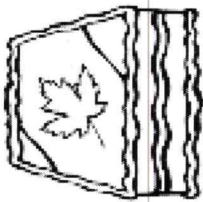
Mon nom: _____



Carte sur la densité
de population

De la campagne à la ville:
les constantes en géographie

Mon nom: _____ humaine



La légende

Le Canada



Carte sur la densité
de population

