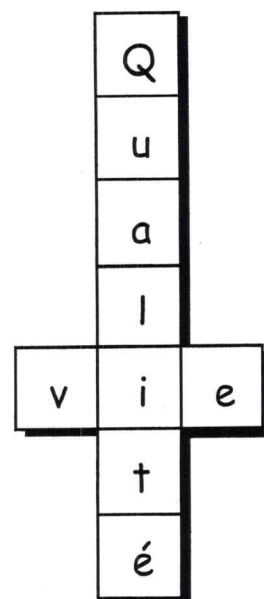



# \* Travail de recherche et révision de l'année \*


## Qualité de la vie à l'échelle mondiale

Mon nom: \_\_\_\_\_

### Les mots-croisés





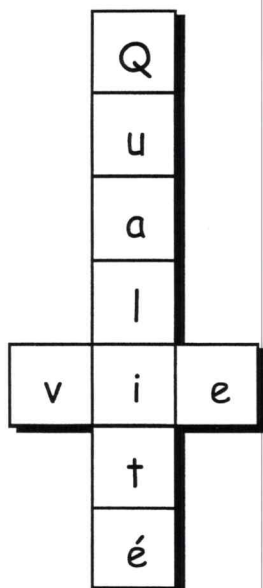

1. L'indicateur de développement humain.
2. Le Produit national brut.
3. Ce qui est nécessaire pour vivre.
4. Le nombre de décès par an dans un pays: taux de \_\_\_\_\_.
5. Les magasins qui fournissent les biens.
6. État de ce qui est dense.
7. La répartition de la population d'un pays: \_\_\_\_\_ des âges.
8. Le nombre de naissances par an dans un pays: taux de \_\_\_\_\_.
9. Un pays d'Afrique en voie de développement.
10. Le salaire d'une personne.
11. Le nombre d'années que les gens vivent en moyenne: \_\_\_\_\_ de vie
12. Une monnaie métallique ou en papier.
13. Le produit intérieur brut.
14. Le territoire d'une nation formé de frontières.
15. L'état d'une personne qui sait lire et écrire.
16. Un continent très pauvre.
17. Tout ce que possède une personne pour combler ses besoins.
18. Un pays d'Asie très peuplé.
19. La répartition de la population d'un pays: pyramide des \_\_\_\_\_.
20. L'ensemble des habitants d'un pays.



# Qualité de la vie à l'échelle mondiale

Mon nom: \_\_\_\_\_

## Les mots-croisés



\_\_\_\_\_

\_\_\_\_\_

\_\_\_\_\_

\_\_\_\_\_

\_\_\_\_\_

\_\_\_\_\_



# TRAVAIL SUR LA CARTE FRANCE

Complète le travail de cartographie pour mieux comprendre le reportage « *Que les Jeux d'été commencent!* ».

## INSTRUCTIONS

1. Procure-toi toutes les ressources nécessaires et lis bien les instructions avant de commencer.
2. Ne colorie ta carte qu'après y avoir inscrit toute l'information demandée.
3. Écris d'abord au crayon, puis repasse par-dessus les lettres au stylo noir.
4. Applique-toi afin que ton travail soit bien propre.

**Ressources nécessaires :** crayon, stylo noir, crayons de couleur, règle, gomme à effacer et atlas.

**Partie A** Trouve et indique, en lettres MAJUSCULES, les pays suivants et colorie chacun de la couleur indiquée :

Royaume-Uni (violet)  
Pays-Bas (vert)  
Suisse (rouge)

France (jaune)  
Belgique (rose)

**Partie B** Trouve et indique la capitale de chacun des pays ci-dessus et soulignes-en le nom.

**Partie C** Trouve et indique, en lettres MAJUSCULES, les pays suivants et colorie chacun de la couleur indiquée :

Allemagne (brun)  
Italie (vert)  
Andorre (rouge)

Luxembourg (orange)  
Espagne (rose)

**Partie D** Trouve et indique les villes suivantes :

Marseille  
Toulouse  
Nantes  
Strasbourg

Lyon  
Nice  
Montpellier  
Bordeaux

**Partie E** Trouve et indique les étendues d'eau océaniques suivantes et colorie-les en bleu foncé :

Océan Atlantique  
Manche  
Mer du Nord  
Mer Méditerranée

Golfe de Gascogne  
Pas de Calais  
Golfe du Lion


**Partie F** Trace et indique les fleuves suivants, puis colorie-les en bleu pâle :

Seine  
Garonne


Rhône  
Loire

**Partie G** Trace et indique le méridien origine.

**Partie H** Complète ta carte en y ajoutant un cadre, un titre et une rose des vents. ★



Anneaux olympiques



France

La France

Nom: \_\_\_\_\_

49

10

