



## La géographie physique et la géographie humaine

Classe les éléments suivants selon la géographie physique ou la géographie humaine, en consultant des sources au besoin. Ajoute ensuite d'autres exemples d'éléments étudiés dans chacune de ces disciplines.

1 Centres de population		Éléments de la géographie physique
2 Roches et minéraux		
3 Montagnes		
4 Densité de peuplement		
5 Terres arables		
6 Fermes		
7 Sources d'eau douce		
8 Activités économiques		
9 Animaux sauvages		
10 Systèmes de transport		
11 Villages		
12 Végétation		
13 Activités récréatives		Autres :
14 Services urbains		
15 Migrations de population		
16 Langues officielles		
17 Courants marins		
18 Hydrographie et bassins versants		
19 Températures moyennes		
20 Autoroutes et ponts		Éléments de la géographie humaine
21 Religion		
22 Divisions et frontières politiques		
23 Rivières et lacs		
24 Mines		
25 Migration d'animaux		
26 Climat		
27 Taux de naissance		
28 Océans		
29 Pêche		
30 Cultures et origines ethniques		
31 Systèmes de communication		Autres :
32 Vents dominants		
33 Forêts		



TRAVAIL SUR LA CARTE

# LE CANADA ATLANTIQUE

Complète le travail de cartographie ci-dessous afin de mieux comprendre le reportage « La taxe sur le carbone »

## INSTRUCTIONS

1. Procure-toi toutes les ressources nécessaires et lis bien les instructions avant de commencer.
2. Ne colorie ta carte qu'après y avoir inscrit toute l'information demandée.
3. Écris d'abord au crayon, puis repasse par-dessus les lettres au stylo noir.
4. Applique-toi afin que ton travail soit bien propre.

**Ressources nécessaires :** crayon, stylo noir, crayons de couleur, règle, gomme à effacer et atlas.

**Partie A** Il y a quatre provinces au Canada atlantique. Trouve et indique, en lettres MAJUSCULES :

- 1) la province qui compte le plus d'habitants. Colorie cette province en violet.
- 2) la province qui compte le deuxième plus grand nombre d'habitants. Colorie cette province en rouge.
- 3) la province qui compte le troisième plus grand nombre d'habitants. Colorie cette province en orange.
- 4) la province qui compte le moins d'habitants. Colorie cette province en jaune.

**Partie B** Trouve et indique la capitale de chacune de ces provinces et soulignes-en le nom.

**Partie C** Trouve et indique, en lettres MAJUSCULES, la province du Québec et colorie-la en rose.

**Partie D** Trouve et indique, en lettres MAJUSCULES, le Nunavut et colorie ce territoire en jaune.

**Partie E** Trouve et indique, en lettres MAJUSCULES, les États-Unis et colorie-les en vert.

**Partie F** Trouve et indique le territoire français de Saint-Pierre-et-Miquelon et colorie-le en jaune.

**Partie G** Trouve et indique les étendues d'eau salée suivantes et colorie-les en bleu foncé :

Mer du Labrador  
Détroit de Belle-Isle  
Baie de Fundy  
Lac Melville

Golfe du Saint-Laurent  
Détroit de Cabot  
Océan Atlantique  
Baie d'Ungava

**Partie H** Trouve et indique les îles suivantes :

Îles de la Madeleine (Québec)  
Île du Cap-Breton (Nouvelle-Écosse)

Île d'Anticosti (Québec)


**Partie I** Trace et indique les fleuves suivants et colorie toutes les étendues d'eau douce en bleu pâle :

Fleuve Saint-Laurent  
Fleuve Saint-Jean


Fleuve Churchill

**Partie J** Trouve et indique le Réservoir Smallwood et colorie-le en bleu pâle.


**Partie K** Complète ta carte en y ajoutant un cadre, un titre et une rose des vents. ★




Nouvelle-Écosse



Nouveau-Brunswick



Î.-P.-É.

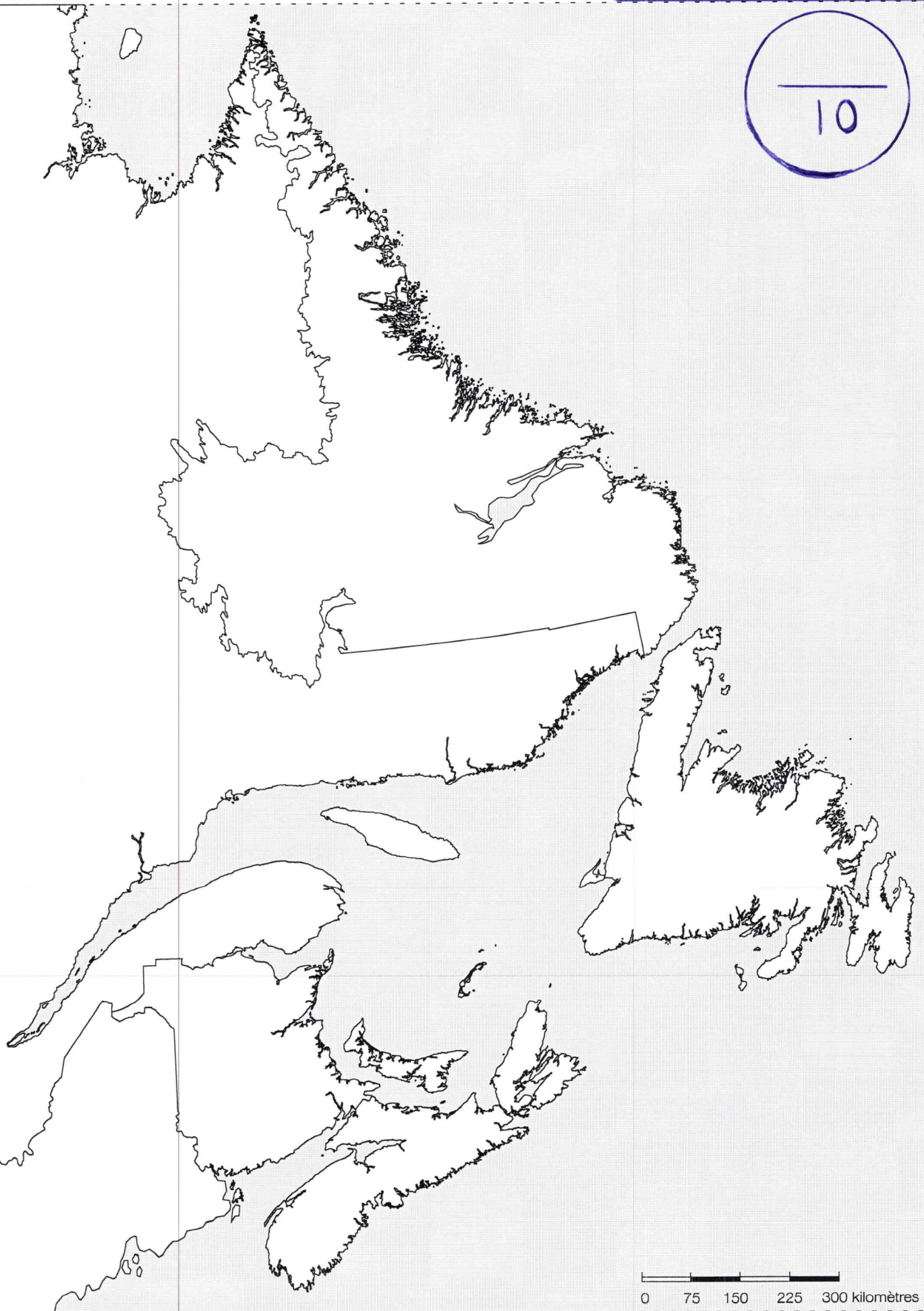


Terre-Neuve-et-Labrador



Nom:

10



0 75 150 225 300 kilomètres